

סטודנטים יקרים

לפניכם ספר תרגילים בקורס שיטות סטטיסטיות.
הספר הוא חלק מקורס חדשני וראשון מסוגו בארץ בנושא זה,
המועבר ברשת האינטרנט On-line.

הקורס באתר כולל פתרונות מלאים לספר התרגילים, וכן את
התיאוריה הרלוונטית לכל נושא ונושא.

**הקורס כולו מוגש בסרטוני וידאו המלווים בהסבר קולי, כך שאתם
רואים את התהליכים בצורה מובנית, שיטתית ופשוטה, ממש כפי
שנעשה בשיעור פרטי, לדוגמה [לחצו כאן](#).**

את הקורס בנה מר ברק קנדל, מרצה מבוקש במוסדות אקדמיים
שונים ובעל ניסיון עתיר בהוראת המקצוע.

אז אם אתם עסוקים מידי בעבודה, סובלים מלקויות למידה, רוצים
להצטיין או פשוט אוהבים ללמוד בשקט בבית, אנחנו מזמינים אתכם
לחויית לימודים יוצאת דופן וחדשה לחלוטין, היכנסו עכשיו לאתר
www.gool.co.il.



אנו מאחלים לכם הצלחה מלאה בבחינות

צוות האתר GooL

גול זה בול. בשבילך!

לפתרון מלא בסרטון וידאו היכנסו ל- www.Gool.co.il

© כתב ופתר - ברק קנדל

תוכן עניינים

3	פרק 1 - סטטיסטיקה תיאורית - סכימה
6	פרק 2 - מדדי קשר - מדד הקשר של קרמר
9	פרק 3 - מדדי קשר - מדד הקשר למדא
12	פרק 4 - מדדי קשר - מדד הקשר של ספירמן
16	פרק 5 - מדדי קשר - מדד הקשר הלינארי (פירסון)
24	פרק 6 - מדדי קשר - רגרסיה ליניארית
27	פרק 7 - מדדי קשר - רגרסיה - שונות מוסברת ושונות לא מוסברת
30	פרק 8 - מבחני חי בריבוע
30	מבחן טיב התאמה
36	מבחן חי בריבוע לאי תלות בין משתנים
41	פרק 9 - ניתוח שונות חד כיוונית
52	פרק 10 - מבחנים אפרמטריים

פרק 1 - סטטיסטיקה תיאורית - סכימה

רקע:

בסטטיסטיקה ישנה צורת רישום מקובלת כדי לרשום סכום של תצפיות:

$$\sum_{i=1}^n X_i$$

נסביר את צורת הרישום על ידי הדוגמה הבאה:

i	X_i
1	5
2	0
3	1
4	3
5	2

תרגילים:

1. בבניין 5 דירות, לכל דירה רשמו את מספר החדרים שיש בדירה (X) ומספר הנפשות החיות בדירה (Y).

מספר דירה	X	Y
1	2	1
2	3	1
3	2	2
4	4	3
5	3	2

חשבו:

$$\sum_{i=1}^3 X_i$$

$$\sum_{i=1}^5 Y_i$$

$$\sum_{i=1}^4 X_i$$

$$\left(\sum_{i=1}^4 X_i\right)^2$$

$$\sum X_i$$

$$\sum X_i Y_i$$

$$\sum (X_i) \sum (Y_i)$$

2. נתון לוח ערכי המשתנים x_i ו- y_i כאשר: $i=1,2,\dots,6$

i	1	2	3	4	5	6
x_i	3	2	4	-2	1	4
y_i	2	0	0	1	-5	2

ונתונים הקבועים: $a=2$ $b=5$ חשבו את הנוסחאות הבאות:

$$\sum_{i=1}^4 y_i \quad \text{א.}$$

$$\sum_{i=1}^6 a \quad \text{ב.}$$

$$\sum_{i=1}^6 x_i y_i \quad \text{ג.}$$

$$\sum_{i=1}^6 (x_i + y_i) \quad \text{ד.}$$

$$\sum_{i=1}^6 x_i + a \quad \text{ה.}$$

3. קבע לכל זהות אם היא נכונה:

$$\sum_{i=1}^n bX_i = b \cdot \sum_{i=1}^n X_i \quad \text{א.}$$

$$\sum_{i=1}^n a = a \cdot n \quad \text{ב.}$$

$$\left(\sum_{i=1}^n X_i\right)^2 = \sum_{i=1}^n X_i^2 \quad \text{ג.}$$

4. נתון: $\sum_{i=1}^{10} X_i = 80$ חשב: $\sum_{i=1}^{10} (X_i - 4)^2$ (פתרון: 1160)

$$\sum_{i=1}^{10} X_i^2 = 1640$$

פרק 2 - מדדי קשר - מדד הקשר של קרמר

רקע:

מתני משתמשים במדד הזה?
 כאשר אחד המשתנים הוא מסולם שמי והשני מכל סולם אפשרי.
 מדד הקשר מקבל ערכים בין 0 ל-1.
 ככל שהמדד יותר קרוב לאחד קיים קשר בעוצמה יותר חזקה בין המשתנים.

דוגמה: (פתרון בהקלטה)

במחקר רוצים לבדוק את הקשר בין מין לדעה בנושא מסוים, שאלו 100 גברים ו-100 נשים האם הם בעד/נגד/נמנע/נשאלו נושא. להלן טבלת השכיחויות המשותפת שהתקבלה.

f(x)	נמנע	נגד	בעד	Y X
100	10	40	50	גבר
100	10	60	30	אישה
n=200	20	100	80	f(y)

בהקשר של קרמר הטבלה נקראת טבלת O (observed)

X - מין (גבר/אישה) – סולם שמי

Y - דעה (בעד/נמנע/נגד) – סולם שמי/סדר

שלבים בחישוב r_c :

שלב א': נבנה את טבלת E (Expected)

נעתיק את המסגרת של טבלת O ואז כל $E_i = (f_{(x)} * f_{(y)}) / n$

f(x)	נמנע	נגד	בעד	Y X
100				גבר
100				אישה
n=200	20	100	80	f(y)

שלב ב': נחשב $\chi^2 = \sum_i \frac{(O_i - E_i)^2}{E_i}$

שלב ג': נחשב: $r_c = \sqrt{\frac{1}{n(L-1)} \chi^2}$

כאשר L מבטא את המספר הקטן מבין מספר השורות או העמודות.

תרגילים:

1. להלן תוצאות מחקר שבדק את הקשר בין מין להשכלה. לגבי כל נחקר נבדק המין שלו והשכלתו. להלן התוצאות:

גבוהה	תיכונית	נמוכה	השכלה
			מין
20	40	120	גבר
80	20	20	אישה

האם קיים קשר בין מין להשכלה? נמק!

2. נלקחו 200 אנשים שמתוכם 60 הצהירו שהם עוסקים בפעילות גופנית סדירה. מתוך אלו שעוסקים בפעילות גופנית סדירה 50 נמצאו במצב בריאותי תקין. מתוך אלו שלא עוסקים בפעילות גופנית סדירה 90 נמצאו במצב בריאותי תקין.
- א. בנה טבלת שכיחות משותפת לנתונים שהוצגו בשאלה.
- ב. האם קיים קשר בין פעילות גופנית למצב בריאותי? חשב לפי מדד הקשר של קרמר.

פתרונות :

שאלה 1

0.595

שאלה 2

ב. 0.19

פרק 3 - מדדי קשר - מדד הקשר למדא

רקע:

מתי משתמשים?

כאשר אחד המשתנים הוא מסולם שמי והשני מכל סולם אחר.
מדד הקשר מקבל ערכים בין 0 ל-1 ככל שהוא קרוב יותר ל-1 הקשר יותר עוצמתי וככל שהוא קרוב ל-0 הוא יותר רופף וחלש.
מדד הקשר של למדא הוא מדד קשר א-סימטרי, כלומר אם נחליף בין X ל-Y נקבל תוצאה אחרת.
לכן בעצם יש שני מדדי למדא:
שלב א' בחישוב מדד הקשר למדא X לפי Y:

שלב א':

נתבונן בעמודה הקיצונית ביותר ונפחית מ n את f(x) הכי גבוה והוא יקרא L_x .

שלב ב':

נעבור כל ערך של Y (כל עמודה) ונסכום עבור כל העמודות את f(y) פחות השכיחות הכי גבוהה

באותה עמודה. יקרא: $L_{x/y}$

שלב ג':

$$\lambda_{x/y} = \frac{L_x - L_{x/y}}{L_x} \quad \text{נציב:}$$

$$\lambda_{y/x} = \frac{L_y - L_{y/x}}{L_y} \quad \text{המדד ההפוך לפי אותו עקרון יהיה:}$$

דוגמה: (פתרון בהקלטה)

במחקר רוצים לבדוק את הקשר בין מין לדעה בנושא מסוים, שאלו 120 גברים ו-100 נשים האם הם בעד/נגד/נמנעים באיזשהו נושא. להלן טבלת השכיחויות המשותפת שהתקבלה.

f(x)	נמנע	נגד	בעד	דעה Y	
				X מין	
120	30	40	50	גבר	
100	10	60	30	אישה	
n=220	40	100	80	f(y)	

תרגילים :

1. להלן תוצאות מחקר שבדק את הקשר בין מין להשכלה. לגבי כל נחקר נבדק המין שלו והשכלתו. להלן התוצאות :

השכלה	מין		
	גבוהה	תיכונית	נמוכה
גבר	20	40	120
אישה	80	20	20

- א. חשב את מדד הקשר של למדא לניבוי השכלה על סמך מין.
 ב. חשב את מדד הקשר של למדא לניבוי מין על סמך השכלה.

2. בעיר 4 שכונות. בכל שכונה נבדק המצב הכלכלי של כל משפחה. להלן טבלת השכיחות המשותפת שהתקבלה :

מצב כלכלי	השכונה		
	גבוה	בינוני	נמוך
A			40
B		70	
C		80	
D	40		

- חשב את מדדי הקשר של למדא והסבר את הממצאים.

פתרונות :**שאלה 2:**

1

0.533

שאלה 1:

א. 0.375

ב. 0.5

פרק 4 - מדדי קשר - מדד הקשר של ספירמן

רקע:

מתי נשתמש במדד ספירמן ?

כאשר אחד המשתנים מסולם סדר והשני מסולם סדר ומעלה.

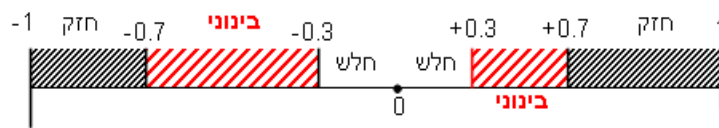
הקשר שהמדד בודק הוא קשר דירוגי.

מדד הקשר בודק :

1 כיוון של הקשר.

2 בודק את עצמת הקשר.

המדד מקבל ערכים בסקלה מ -1 ועד 1.



אם מדד הקשר של ספירמן יוצא 1 המשמעות היא שיש קשר דירוגי חיובי מלא : ככל המשתנה אחד עולה השני עולה ללא יוצא מן הכלל.

קשר דירוגי חיובי חלקי (שמקדם המתאם בין 0 ל-1) אומר שככל שמשתנה אחד עולה לשני יש נטייה לעלות אך לא באופן מוחלט.

אם מדד הקשר של ספירמן יוצא -1 המשמעות היא שיש קשר דירוגי שלילי מלא : ככל שהמשתנה אחד עולה השני יורד ללא יוצא מן הכלל.

קשר דירוגי שלילי חלקי (שמקדם המתאם הוא בין 0 ל- -1) אומר שככל שמשתנה אחד עולה לשני יש נטייה לרדת אך לא באופן מוחלט.

על מנת לחשב את הקשר יש לבצע פעולת דירוג (RANK) נלמד את פעולת הדירוג דרך הדוגמה הבאה (פתרון בהקלטה)

שם התלמיד	הערכה	דירוג R
ערן	בינוני	
מיכל	מצוין	
עודד	חלש	
רוני	טוב	
יעל	טוב	

כאשר מדרגים אם יש כמה תצפיות שתופסות את אותו הערך אז הדירוג שלהם הוא הממוצע של המקומות שהן תופסות.

$$r_s = 1 - \frac{6 \sum_{i=1}^n d_i^2}{n(n^2 - 1)}$$

הנוסחה של מדד הקשר :

דוגמה : (פתרון בהקלטה)

בתחרות רוקדים עם כוכבים השתתפו 7 זוגות, 2 שופטים נתנו את ציוניהם לריקוד של כל זוג.
מהי מידת ההתאמה בין ציוני השופטים?

X - ציון שופט א (סולם סדר)

Y - ציון שופט ב (סולם סדר)

להלן התוצאות שהתקבלו :

מספר הזוג	ציון שופט א	R_x	ציון שופט ב	R_y	$d=r_x-r_y$	d^2
1	4		5			
2	5		5			
3	6		7			
4	5		7			
5	8		9			
6	7		9			
7	3		7			

תרגילים:

1. בתחרות יופי חילקו שני שופטים ציונים למועמדות:

7	6	5	4	3	2	1	מספר מועמדת
6	5	9	8	6	8	7	ציון שופט א'
7	5	9	8	7	8	8	ציון שופט ב'

האם קיים קשר בין שתי הערכות השופטים? נמק והסבר!

2. משרד רצה לבחון האם קיים קשר בין מידת המוטיבציה של העובדים שלו לבין מספר החיסורים של העובדים בחודש עבודה. להלן התוצאות שהתקבלו:

מספר חיסורים	מידת מוטיבציה
0	גבוהה
4	נמוכה
2	בינונית
5	נמוכה
1	גבוהה

האם קיים קשר בין רמת המוטיבציה של העובד ומספר החיסורים שלו? חשב באמצעות מדד הקשר המתאים והסבר.

3. אם $r_s = 1$ הדבר אומר שערכי X תמיד שווים לערכי Y. האם הטענה נכונה? הסבר.

פתרונות:

שאלה 1:

0.973

שאלה 2:

-0.85

שאלה 3:

לא נכון

פרק 5 - מדדי קשר - מדד הקשר הלינארי (פירסון)

רקע:

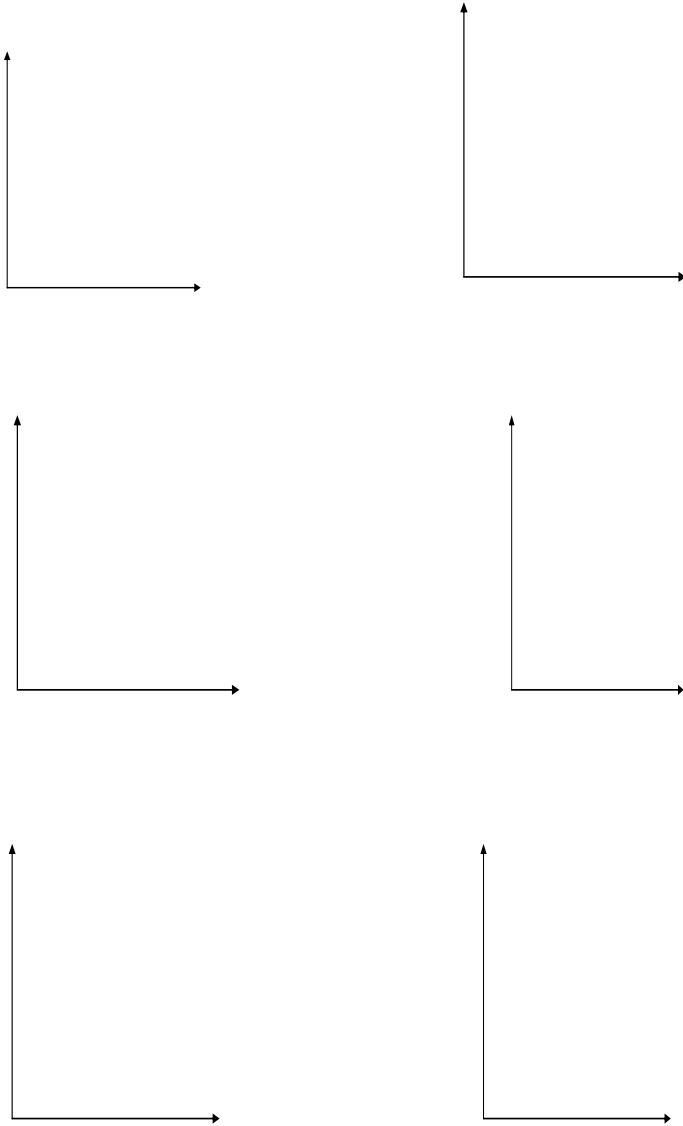
המטרה היא לבדוק האם קיים קשר (קורלציה, מתאם) של קו ישר בין שני משתנים כמותיים. מבחינת סולמות המדידה קשר בין סולמות רווחים ומנה. בדרך כלל, X הוא המשתנה המסביר (הבלתי תלוי) ו Y הוא המשתנה המוסבר (התלוי). למשל, נרצה להסביר כיצד השכלה של אדם הנמדדת בשנות לימוד X מסבירה את ההכנסה שלו Y. במקרה זה שנות ההשכלה זהו המשתנה המסביר (או הבלתי תלוי) ואנחנו מעוניינים לבדוק כיצד שינויים בשנות ההשכלה של אדם יכולים להסביר את השינויים שלו בהכנסה, ולכן רמת ההכנסה זהו המשתנה המוסבר התלוי במשתנה המסביר אותו. בשלב הראשון, נהוג לשרטט דיאגרמת פיזור. זו דיאגרמה שנותנת אינדיקציה ויזואלית על טיב הקשר בין שני המשתנים. למשל, בבניין של 5 דירות בדקו את הנתונים הבאים: X - מס' חדרים בדירה. Y - מס' נפשות הגרות בדירה. להלן התוצאות שהתקבלו:

מס' דירה	X	Y
1	3	2
2	2	2
3	4	3
4	3	3
5	5	4

נשרטט מנתונים הללו דיאגרמת פיזור:



נתבונן בכמה מקרים של דיאגרמות פיזור וננתח אותן :



בשלב השני, מחשבים את מקדם המתאם (מדד הקשר) שבודק עד כמה קיים קשר לינארי בין שני המשתנים. הממדד (ניקרא גם מדד הקשר של פירסון) מכמת את מה שנראה בשלב הראשון רק בעין.

המדד בודק את כיוון הקשר (חיובי או שלילי).

ואת עוצמת הקשר (חלש עד חזק).

מקדם מתאם זה מקבל ערכים בין -1 ל 1.

מקדם מתאם -1 או 1 אומר שקיים קשר לינארי מוחלט ומלא בין המשתנים שניתן לבטאו על ידי

$$y = bx + a$$

מתאם חיובי מלא (מקדם מתאם 1) אומר שקיים קשר לינארי מלא בו השיפוע b יהיה חיובי ואילו

מתאם שלילי מלא אומר שקיים קשר לינארי מלא בו השיפוע b שלילי (מקדם מתאם -1).

מתאם חיובי חלקי אומר שככל שמשנתה אחד עולה לשני יש נטייה לעלות בערכו אבל לא קיימת

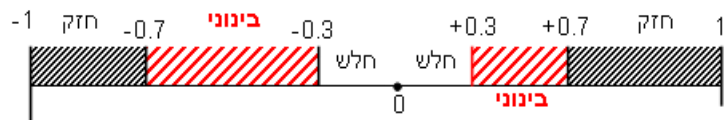
נוסחה לינארית שמקשרת את X ל- Y באופן מוחלט ואילו מתאם שלילי חלקי אומר שככל

שמשנתה אחד עולה לשני יש נטייה לרדת אבל לא קיימת נוסחה לינארית שמקשרת את X ל- Y

באופן מוחלט.

ככל שערך מקדם המתאם קרוב לאפס נאמר שעוצמת הקשר חלשה יותר וככל שמקדם המתאם

רחוק מהאפס נאמר שעוצמת הקשר חזקה יותר.



מקדם המתאם יסומן באות r .

כדי לחשב את מקדם המתאם, יש לחשב את סטיות התקן של כל משתנה ואת השונות המשותפת.

$$COV(x, y) = \frac{\sum (x - \bar{x})(y - \bar{y})}{n} = \frac{\sum xy}{n} - \bar{x} \cdot \bar{y} : \text{שונות משותפת}$$

$$s_x^2 = \frac{\sum_{i=1}^n (x_i - \bar{x})^2}{n} = \frac{\sum_{i=1}^n x_i^2}{n} - \bar{x}^2 : \text{שונות של המשתנה X}$$

$$s_y^2 = \frac{\sum_{i=1}^n (y_i - \bar{y})^2}{n} = \frac{\sum_{i=1}^n y_i^2}{n} - \bar{y}^2 : \text{שונות המשתנה Y}$$

$$r_{xy} = \frac{COV(x, y)}{s_x \cdot s_y} : \text{מקדם המתאם הלינארי}$$

תרגילים:

1. להלן נתונים לגבי שישה תלמידים שנגשו למבחן. בדקו לגבי כל תלמיד את הציון שלו בסוף הקורס וכמו כן את מספר החיסורים שלו מהקורס.

מספר חיסורים	ציון
2	80
1	90
0	90
2	70
3	70
4	50

- א. שרטט דיאגרמת פיזור לנתונים. מה ניתן להסיק מהדיאגרמה על טיב הקשר בין מספר החיסורים של תלמיד לציונו? מיהו המשתנה הבלתי תלוי ומיהו המשתנה התלוי?
 ב. חשב את מדד הקשר של פירסון. האם התוצאה מתיישבת עם תשובתך לסעיף א?
 ג. הסבר ללא חישוב כיצד מקדם המתאם היה משתנה אם היה מתווסף תלמיד שהחסיר 4 פעמים וקיבל ציון 80?

2. במחקר רפואי רצו לבדוק האם קיים קשר בין רמת ההורמון X בדם החולה לרמת ההורמון Y שלו. לצורך כך מדדו את רמת ההורמונים ההלו עבור חמישה חולים. להלן התוצאות שהתקבלו:

x	y
10	12
14	15
15	15
18	17
20	21

- א. מה הממוצע של כל רמת הורמון?
 ב. מהו מקדם המתאם בין ההורמונים? ומה משמעות התוצאה?

3. נסמן ב- X את ההכנסה של משפחה באלפי ₪. נסמן ב- Y את ההוצאות של משפחה באלפי ₪. נלקחו 20 משפחות והתקבלו התוצאות הבאות:

$$\sum_{i=1}^{20} Y_i = 200 \quad \sum_{i=1}^{20} X_i = 240$$

$$\sum_{i=1}^{20} (Y_i - \bar{Y})^2 = 76 \quad \sum_{i=1}^{20} (X_i - \bar{X})^2 = 76$$

$$\sum_{i=1}^{20} (X_i - \bar{X})(Y_i - \bar{Y}) = 60.8$$

א. חשב את מדד הקשר הלינארי בין X ל- Y . מיהו המשתנה התלוי?

ב. מה המשמעות של התוצאה שקיבלת בסעיף א?

4. נסמן ב- X את ההכנסה של משפחה באלפי ₪. נסמן ב- Y את ההוצאות של משפחה באלפי ₪. נלקחו 20 משפחות והתקבלו התוצאות הבאות:

$$\sum_{i=1}^{20} Y_i = 200 \quad \sum_{i=1}^{20} X_i = 240$$

$$\sum_{i=1}^{20} Y_i^2 = 2080 \quad \sum_{i=1}^{20} X_i^2 = 2960$$

$$\sum_{i=1}^{20} X_i Y_i = 2464$$

חשב את מדד הקשר הלינארי בין X ל- Y .

5. במוסד אקדמי ציון ההתאמה מחושב כך: מכפילים את הציון הממוצע בבגרות ב-3 ומפחיתים 2 נקודות. ידוע שעבור 40 מועמדים סטיית התקן של ממוצע הציון בבגרות הייתה 2. מה מקדם המתאם בין ציון ההתאמה לציון הממוצע בבגרות שלהם?

6. להלן רשימת טענות, לגבי כל טענה קבע נכון/לא נכון ונמק!

א. מתווך דירות המיר מחירי דירות מדולר לשקל. נניח שדולר אחד הוא 3.5 ₪. אם מתווך הדירות יחשב את מדד הקשר של פירסון בין מחיר הדירה בשקלים למחיר הדירה בדולרים הוא יקבל 1.

ב. לסדרה של נתונים התקבל $\bar{X} = \bar{Y} = 6$ ו- $S_x = S_y = 1$ לכן מדד הקשר של פירסון יהיה 1.

ג. אם השונות המשותפת של X ושל Y הינה 0 אז בהכרח גם מקדם המתאם של פירסון יהיה 0.

שאלות אמריקאיות:

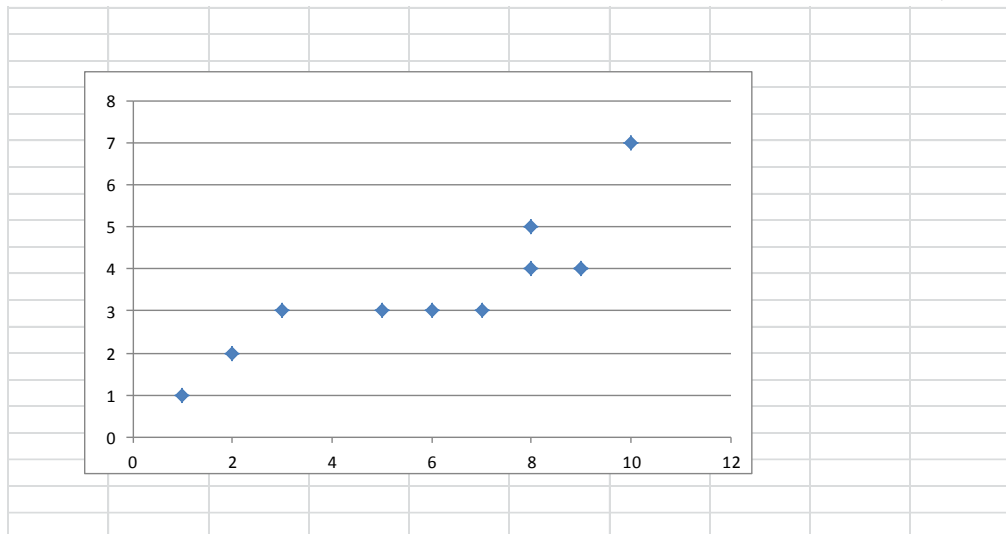
7. נמצא שקיים מקדם מתאם שלילי בין הציון בעברית לציון בחשבון בבחינה לכן :

- א. הדבר מעיד שהציונים בכתה היו שליליים.
- ב. ככל שהציון של תלמיד יורד בחשבון יש לו נטייה לרדת בעברית.
- ג. ככל שהציון של תלמיד עולה בחשבון יש לו נטייה לרדת בעברית.
- ד. אף אחת מהתשובות לא נכונה.

8. נלקחו 20 מוצרים וניבדק ביום מסוים המחיר שלהם בדולרים והמחיר שלהם בש"ח (באותו היום ערך הדולר היה - 4.2 ₪) מהו מקדם המתאם בין המחיר בדולר למחיר בש"ח?

- א. 1
- ב. 0
- ג. 4.2
- ד. לא ניתן לדעת.

9. להלן דיאגרמת פיזור :



מה יהיה מקדם המתאם בין שני המשתנים?

- א. 1
- ב. 0.85
- ג. 0.15
- ד. 0

פתרונות:**שאלה 1:**

א. בהקלטה

ב. -0.9325 **שאלה 2:**א. $\bar{y} = 16$ $\bar{x} = 15.4$ ב. $r_{xy} = 0.96$ **שאלה 3:**

א : 0.8

שאלה 4:

0.8

שאלה 5:

1

שאלה 6:

א. נכון

ב. לא נכון

ג. נכון

שאלה 7:

התשובה : ג

שאלה 8:

התשובה : א

שאלה 9:

התשובה : ב

פרק 6 - מדדי קשר - רגרסיה ליניארית

רקע:

במידה וקיים קשר חזק בין שני המשתנים הכמותיים נהוג לבצע ניבויי לבנות קו ניבויים הנקרא גם קו רגרסיה המנבא משתנה אחד על סמך האחר.

מדובר בקו שמנבא את Y על סמך X . השיטה למציאת הקו הנ"ל נקראת שיטת הריבועים הפחותים והקו המתקבל נקרא קו הרגרסיה או קו הניבויים או קו הריבועים הפחותים.

a - בעצם נותן את ערך Y כאשר X הנו אפס על גבי קו הניבויים. הוא ניקרא החותך של הקו.

b - הוא שיפוע הקו נותן בכמה בעצם Y משתנה כאשר X גדל ביחידה אחת על גבי קו הניבויים.

להלן המשוואות למציאת הפרמטרים של קו הרגרסיה:

$$\tilde{Y} = bX + a$$

$$b = r \frac{S_y}{S_x}$$

$$a = \bar{Y} - b\bar{X}$$

אם נרצה לבנות קו ניבויים לניבוי X על סמך Y נצטרך לעדכן את הנוסחאות בהתאם.

תרגילים:

1. נסמן ב- X את ההכנסה של משפחה באלפי ₪. נסמן ב- Y את ההוצאות של משפחה באלפי ₪. נלקחו 20 משפחות והתקבלו התוצאות הבאות:

$$\sum_{i=1}^{20} Y_i = 200 \quad \sum_{i=1}^{20} X_i = 240$$

$$\sum_{i=1}^{20} (Y_i - \bar{Y})^2 = 76 \quad \sum_{i=1}^{20} (X_i - \bar{X})^2 = 76$$

$$\sum_{i=1}^{20} (X_i - \bar{X})(Y_i - \bar{Y}) = 60.8$$

- א. חשב את מדד הקשר הלינארי בין X ל- Y . מיהו המשתנה התלוי?
 ב. מצא את קו הרגרסיה לניבוי ההוצאה של משפחה על סמך הכנסה שלה. הסבר את משמעות הפרמטרים של קו הרגרסיה.
 ג. משפחת כהן הכניסה 15,000 ₪, מה ההוצאה הצפויה שלה?

2. נסמן ב- X את ההשכלה של אדם בשנות למוד. נסמן ב- Y את הכנסתו באלפי ₪. במחקר התקבלו התוצאות הבאות:

$$S_y = 5 \quad S_x = 2$$

$$\bar{Y} = 8 \quad \bar{X} = 14$$

$$COV(X, Y) = 7.5$$

- א. חשב את מדד הקשר של פירסון בין ההשכלה להכנסה.
 ב. מה ההכנסה הצפויה לאדם שהשכלתו 12 שנים?
 ג. מה ההשכלה הצפויה לאדם שהכנסתו 10,000 ₪?

3. חוקר רצה לחקור את הקשר הקווי שבין הציון המבחן בסטטיסטיקה לבין מספר שעות ההכנה של הסטודנטים למבחן. במדגם של 100 סטודנטים שנבחנו בקורס נרשמו התוצאות הבאות: הציון הממוצע של הסטודנטים היה 65 עם סטיית תקן של 27. מספר שעות ההכנה הממוצע היה 30 עם סטיית תקן של 18. מקדם המתאם בין הציון לשעות ההכנה היה 0.8.
 א. על פי משוואת הרגרסיה שעת הכנה נוספת משפרת את ציון המבחן ב?
 ב. על פי משוואת הרגרסיה תלמיד שייגש למבחן ללא שעות הכנה כלל יקבל ציון?
 ג. מהו קו הרגרסיה לניבוי הציון לפי שעות ההכנה?

4. נתונים 2 משתנים Y, X . כמו כן נתון: X ממוצע = 1.5, שונות X = שונות Y = 4, וכן שקו הרגרסיה של Y על בסיס X הינו $Y = -0.2X + 0.5$. חשב מהו מקדם המתאם בין X ל- Y ?

פתרונות:שאלה 1:

א. 0.8

ב. $\tilde{Y} = 0.8X + 0.4$

ג. 12.4

שאלה 2:

א. 0.75

ב. 4.25 אלפי ש"ח

ג. 14.6 שנים

שאלה 3:

א. 1.2

ב. 29

ג. $y = 1.2x + 29$

שאלה 4:

-0.2

פרק 7 - מדדי קשר - רגרסיה - שונות מוסברת ושונות לא מוסברת

רקע:

המטרה ברגרסיה הנה להסביר את השונות של המשתנה התלוי. למשל, להסביר את השונות של המשכורות באמצעות הוותק או להסביר את השוני בציונים באמצעות כמות החיסורים.

r^2 - נותן בעצם איזה חלק מהשונות של המשתנה התלוי מוסבר. השונות המוסברת נקראת גם שונות ניבויים. השונות הלא מוסברת נקראת גם שונות טעויות.

תרגילים :

1. נמצא קשר חיובי בעוצמה של 0.7 בין שטח דירה למחירה. כמו כן נתון שסטיית התקן של מחירי הדירות הינה 200.

- א. איזה אחוז מהשונות של מחירי הדירות מוסבר על ידי שטח הדירה?
- ב. איזה אחוז מהשונות של מחירי הדירות לא מוסבר על ידי שטח הדירה?
- ג. מהי השונות המוסברת ומהי השונות הלא מוסברת של מחירי הדירות?

2. להלן רשימת טענות, לגבי כל טענה קבע נכון/לא נכון ונמק!

- א. אם שונות הטעויות שווה ל-0 (השונות הלא מוסברת) אז מקדם המתאם של פירסון יהיה 1.
- ב. אם מקדם המתאם של פירסון בין שני משתנים הוא 1 אזי שונות הטעויות (השונות הלא מוסברת) תהיה 0.
- ג. אם השונות המשותפת של X ושל Y הינה 0 אז בהכרח גם מקדם המתאם של פירסון יהיה 0.

שאלות אמריקאיות:

בשאלות הבאות יש לבחור בתשובה הנכונה.

3. בקשר בין שני משתנים התקבל $r^2 = 0.64$ לכן :

- א. ללא יוצא מן הכלל ככל שערכי משתנה אחד עולה השני יעלה.
- ב. 64% מהשונות של משתנה אחד מוסבר על ידי המשתנה השני.
- ג. הקשר בין שני המשתנים הוא בעוצמה של 0.64.
- ד. כל התשובות נכונות.

4. אם מגדילים את r^2 מה ניתן לומר?

- א. אחוז השונות המוסברת יקטן
- ב. אחוז השונות המוסברת יגדל
- ג. אחוז השונות המוסברת יישאר ללא שינוי.
- ד. סטיית התקן משתנה
- ה. לא ניתן לדעת

5. בקורס מבוא לכלכלה ניתנו במשך השנה שני מבחנים : מבחן בסוף סימסטר א (X) ומבחן בסוף סימסטר ב (Y) . כאשר בנו את קו הרגרסיה של הציון במבחן סוף סמסטר ב לפי הציון במבחן סוף סמסטר א התקבלה שונות טעויות של 80 , ושונות ניבויים של 20 . לפי נתונים אלו מקדם המתאם בין הציון במבחן סוף סמסטר א לבין הציון במבחן סוף סמסטר ב הוא :
- א. 0.44 .
- ב. - 0.44 .
- ג. עוצמת ההקשר הלינארי היא 0.44 , אך אין אפשרות לדעת את סימנה.
- ד. אין אפשרות לחשב את מקדם המתאם.
- ה. 0.35

פרק 8 - מבחני חי בריבוע

מבחן טיב התאמה

רקע:

מבחן זה הוא מבחן הבא לבדוק האם אוכלוסייה מסוימת מתפלגת לפי התפלגות נתונה. המשתנה הנחקר מחולק למספר קטגוריות ויש לבדוק האם תוצאות המדגם תואמות להתפלגות הנתונה.

מבנה המבחן:

השערות:

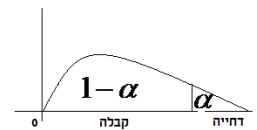
H_0 : המשתנה מתפלג לפי התפלגות מסוימת

H_1 : אחרת

כלל הכרעה:

הערך הקריטי נקבע על סמך התפלגות חי בריבוע. התפלגות זו היא אסימטרית חיובית ותלויה בדרגות החופש.

כאשר K - מספר הקטגוריות, $d.f = K - 1$.



הערך הקריטי הוא: $\chi^2_{1-\alpha, K-1}$, כלומר האחוזון ה- $1-\alpha$ בהתפלגות חי בריבוע שדרגות החופש הן $K-1$.

אם $\chi^2 > \chi^2_{1-\alpha, K-1}$, דוחים את השערת האפס.

סטטיסטי המבחן:

$$\chi^2 = \sum_{i=1}^k \frac{(O_i - E_i)^2}{E_i}$$

O_i - השכיחות שנצפתה במדגם בקטגוריה i .

p_i - הסתברות לקטגוריה i לפי השערת האפס.

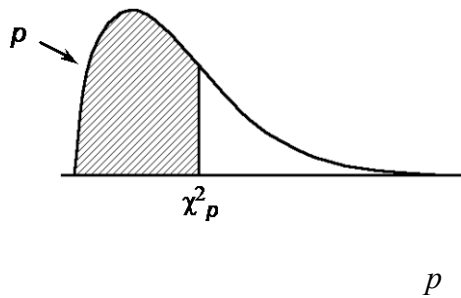
$E_i = np_i$ שכיחות צפויה במדגם לקטגוריה i בהנחת השערת האפס.

הערה: תנאי כדי לבצע את המבחן הוא $E_i \geq 5$ לכל i . במידה ותנאי זה לא מתקיים יש אפשרות לאחד

קטגוריות סמוכות עד שהתנאי יתקיים.

דוגמה: (פתרון בהקלטה)

במדינה מסוימת שלוש מפלגות. בפרלמנט הנוכחי התפלגות מספר המושבים היא 30% למפלגה A, 60% למפלגה B ו-10% למפלגה C. לקראת הבחירות המתוכננות בשבוע הבא נעשה סקר שכלל 300 אזרחים. בסקר התקבל ש-40% יצביעו למפלגה A, 50% למפלגה B ו-10% למפלגה C. האם תוצאות הסקר תואמות להתפלגות המושבים בפרלמנט הנוכחי? בדקו ברמת מובהקות של 5%.

טבלת התפלגות חי-בריבוע – ערכי החלוקה χ^2_p 

df	.005	.01	.025	.05	.10	.25	.50	.75	.90	.95	.975	.99	.995
1	0.0 ⁴ 393	0.0 ³ 157	0.0 ³ 982	0.0 ² 393	0.0158	0.102	0.455	1.32	2.71	3.84	5.02	6.63	7.88
2	0.0100	0.0201	0.0506	0.103	0.211	0.575	1.39	2.77	4.61	5.99	7.38	9.21	10.6
3	0.0717	0.115	0.216	0.352	0.584	1.21	2.37	4.11	6.25	7.81	9.35	11.3	12.8
4	0.207	0.297	0.484	0.711	1.06	1.92	3.36	5.39	7.78	9.49	11.1	13.3	14.9
5	0.412	0.554	0.831	1.15	1.61	2.67	4.35	6.63	9.24	11.1	12.8	15.1	16.7
6	0.676	0.872	1.24	1.64	2.20	3.45	5.35	7.84	10.6	12.6	14.4	16.8	18.5
7	0.989	1.24	1.69	2.17	2.83	4.25	6.35	9.04	12.0	14.1	16.0	18.5	20.3
8	1.34	1.65	2.18	2.73	3.49	5.07	7.34	10.2	13.4	15.5	17.5	20.1	22.0
9	1.73	2.09	2.70	3.33	4.17	5.90	8.34	11.4	14.7	16.9	19.0	21.7	23.6
10	2.16	2.56	3.25	3.94	4.87	6.74	9.34	12.5	16.0	18.3	20.5	23.2	25.2
11	2.60	3.05	3.82	4.57	5.58	7.58	10.3	13.7	17.3	19.7	21.9	24.7	26.8
12	3.07	3.57	4.40	5.23	6.30	8.44	11.3	14.8	18.5	21.0	23.3	26.2	28.3
13	3.57	4.11	5.01	5.89	7.04	9.30	12.3	16.0	19.8	22.4	24.7	27.7	29.8
14	4.07	4.66	5.63	6.57	7.79	10.2	13.3	17.1	21.1	23.7	26.1	29.1	31.3
15	4.60	5.23	6.26	7.26	8.55	11.0	14.3	18.2	22.3	25.0	27.5	30.6	32.8
16	5.14	5.81	6.91	7.96	9.31	11.9	15.3	19.4	23.5	26.3	28.8	32.0	34.3
17	5.70	6.41	7.56	8.67	10.1	12.8	16.3	20.5	24.8	27.6	30.2	33.4	35.7
18	6.26	7.01	8.23	9.39	10.9	13.7	17.3	21.6	26.0	28.9	31.5	34.8	37.2
19	6.84	7.63	8.91	10.1	11.7	14.6	18.3	22.7	27.2	30.1	32.9	36.2	38.6
20	7.43	8.26	9.59	10.9	12.4	15.5	19.3	23.8	28.4	31.4	34.2	37.6	40.0
21	8.03	8.90	10.3	11.6	13.2	16.3	20.3	24.9	29.6	32.7	35.5	38.9	41.4
22	8.64	9.54	11.0	12.3	14.0	17.2	21.3	26.0	30.8	33.9	36.8	40.3	42.8
23	9.26	10.2	11.7	13.1	14.8	18.1	22.3	27.1	32.0	35.2	38.1	41.6	44.2
24	9.89	10.9	12.4	13.8	15.7	19.0	23.3	28.2	33.2	36.4	39.4	43.0	45.6
25	10.5	11.5	13.1	14.6	16.5	19.9	24.3	29.3	34.4	37.7	40.6	44.3	46.9
26	11.2	12.2	13.8	15.4	17.3	20.8	25.3	30.4	35.6	38.9	41.9	45.6	48.3
27	11.8	12.9	14.6	16.2	18.1	21.7	26.3	31.5	36.7	40.1	43.2	47.0	49.6
28	12.5	13.6	15.3	16.9	18.9	22.7	27.3	32.6	37.9	41.3	44.5	48.3	51.0
29	13.1	14.3	16.0	17.7	19.8	23.6	28.3	33.7	39.1	42.6	45.7	49.6	52.3
30	13.8	15.0	16.8	18.5	20.6	24.5	29.3	34.8	40.3	43.8	47.0	50.9	53.7

תרגילים:

1. במטרה לבדוק האם קובייה הוגנת, מטילים אותה 120 פעמים. התקבל 17 פעמים 1, 23 פעמים 2, 20 פעמים 3, 25 פעמים 4, 18 פעמים 5 ו- 17 פעמים 6. מה מסקנתכם ברמת מובהקות של 5%?
2. מפעל מייצר סוכריות בצבעים כחול, אדום, ירוק וכתום. מעוניינים לבדוק שפרופורציית הסוכריות הכחולות גדולה פי 2 מכל צבע אחר. לצורך כך נדגמו באקראי 200 סוכריות והתקבל: 70 כחולות, 50 אדומות, 40 ירוקות והיתר כתומות. מה מסקנתכם ברמת מובהקות של 5%?
3. 200 איש נתבקשו לבחור ספרה באקראי והנה התוצאות שהתקבלו:
- 18 איש בחרו בספרה 0
 - 24 איש בחרו בספרה 1
 - 17 איש בחרו בספרה 2
 - 19 איש בחרו בספרה 3
 - 20 איש בחרו בספרה 4
 - 18 איש בחרו בספרה 5
 - 22 איש בחרו בספרה 6
 - היתר בחרו בספרות 7-9
- א. על סמך התוצאות הללו האם בחירת הספרות אקראית? רמת מובהקות של 2.5%.
- ב. תנו הערכה למובהקות התוצאה.
- ג. אם נגדיל את גודל המדגם פי 2 ונשמור על אותם יחסים של כמות האנשים במדגם שבחרו בספרות, כיצד הדבר ישפיע על ערכו של הסטטיסטי χ^2 ? מה תהיה המסקנה במקרה זה?
4. מעוניינים לבדוק האם קובייה היא הוגנת. הטילו את הקובייה פעמיים והתבוננו בסכום הוצאות. חזרו על התהליך 72 פעמים. להלן התוצאות שהתקבלו במדגם:

מספר הטלות	סכום התוצאות
20	2-5
17	6-8
20	9-10
15	11-12

מה המסקנה ברמת מובהקות של 5%.

5. בפנס יש 4 סוללות. בבדיקה שנערכה ב-400 פנסים נמצאו סוללות פגומות לפי השכיחויות הבאות:

מספר הסוללות הפגומות	0	1	2	3 ומעלה
שכיחות	276	104	12	8

מעוניינים לבדוק על סמך תוצאות מדגם אלה האם הסיכוי לסוללה פגומה הוא 20%. מהי רמת המובהקות המינימלית עבורה נכריע שהסיכוי לסוללה פגומה אינו 20%?

6. להלן השערות מחקר:

$$H_0 : X \sim N(40, 2^2)$$

$$H_1 : else$$

תוצאות המדגם הן:

מעל 44	40-44	36-40	מתחת 36	X
2A	45A	50A	3A	מספר הדגימות

מהו ערכו המקסימלי של A עבורו נקבל את H_0 ברמת מובהקות של 5%?

פתרונות:**שאלה 1:**לא נדחה H_0 **שאלה 2:**לא נדחה H_0 **שאלה 3:**א. לא נדחה H_0 ב. בין 0.95 ל- 0.975 ג. יגדל פי 2. מסקנה לא תשתנה.**שאלה 4:**

נכריע שהקובייה אינה הוגנת.

שאלה 5:

0.005

שאלה 6:

14

מבחן חי בריבוע לאי תלות בין משתנים

רקע:

מבחן לאי תלות מטרתו לבדוק האם קיים קשר בין שני משתנים. שני המשתנים שנבדקים צריכים להיות מחולקים למספר קטגוריות.

מבנה המבחן:

השערות:

H_0 : אין תלות בין המשתנים

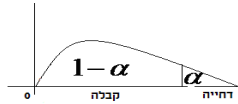
H_1 : יש תלות בין המשתנים

כלל הכרעה:

הערך הקריטי נקבע על סמך התפלגות חי בריבוע. התפלגות זו היא אסימטרית חיובית ותלויה בדרגות החופש.

$$d.f = (r-1)(c-1)$$

כאשר r - מספר הקטגוריות של המשתנה שבשורות.
 c - מספר הקטגוריות של המשתנה שבעמודות.



הערך הקריטי הוא: $\chi^2_{1-\alpha, (r-1)(c-1)}$, כלומר האחוזון ה- $1 - \alpha$ בהתפלגות חי בריבוע שדרגות

החופש הן $(r-1)(c-1)$. אם $\chi^2 > \chi^2_{1-\alpha, (r-1)(c-1)}$ אז דוחים את השערת האפס.

סטטיסטי המבחן:

$$\chi^2 = \sum_{i=1}^k \frac{(O_i - E_i)^2}{E_i}$$

O_i - השכיחות נצפית במדגם בתא i .

E_i - שכיחות צפויה במדגם בתא i בהנחת השערת האפס.

$$E_i = \frac{f(x) \cdot f(y)}{n}$$

הערה: תנאי כדי לבצע את המבחן הוא $E_i \geq 5$ לכל i . במידה ותנאי זה לא מתקיים יש אפשרות

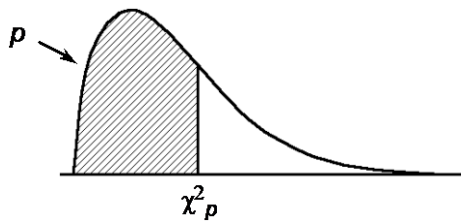
לאחד קטגוריות סמוכות עד שהתנאי יתקיים. תנאי חלופי: אין E קטן מ-1 וגם אין ביותר מ-20% מהתאים E קטן מ-5.

דוגמה: (הפתרון בהקלטה)

האם יש תלות בין המגדר לבין דעה מסוימת? יש לבדוק ברמת מובהקות של 5% על סמך תוצאות הסקר:

דעה / המגדר	בעד	נגד	נמנע	סה"כ
גברים	50	40	10	
נשים	20	60	20	
סה"כ				

טבלת התפלגות חי-בריבוע – ערכי החלוקה χ^2_p



p

df	.005	.01	.025	.05	.10	.25	.50	.75	.90	.95	.975	.99	.995
1	0.0 ⁴ 393	0.0 ³ 157	0.0 ³ 982	0.0 ² 393	0.0158	0.102	0.455	1.32	2.71	3.84	5.02	6.63	7.88
2	0.0100	0.0201	0.0506	0.103	0.211	0.575	1.39	2.77	4.61	5.99	7.38	9.21	10.6
3	0.0717	0.115	0.216	0.352	0.584	1.21	2.37	4.11	6.25	7.81	9.35	11.3	12.8
4	0.207	0.297	0.484	0.711	1.06	1.92	3.36	5.39	7.78	9.49	11.1	13.3	14.9
5	0.412	0.554	0.831	1.15	1.61	2.67	4.35	6.63	9.24	11.1	12.8	15.1	16.7
6	0.676	0.872	1.24	1.64	2.20	3.45	5.35	7.84	10.6	12.6	14.4	16.8	18.5
7	0.989	1.24	1.69	2.17	2.83	4.25	6.35	9.04	12.0	14.1	16.0	18.5	20.3
8	1.34	1.65	2.18	2.73	3.49	5.07	7.34	10.2	13.4	15.5	17.5	20.1	22.0
9	1.73	2.09	2.70	3.33	4.17	5.90	8.34	11.4	14.7	16.9	19.0	21.7	23.6
10	2.16	2.56	3.25	3.94	4.87	6.74	9.34	12.5	16.0	18.3	20.5	23.2	25.2
11	2.60	3.05	3.82	4.57	5.58	7.58	10.3	13.7	17.3	19.7	21.9	24.7	26.8
12	3.07	3.57	4.40	5.23	6.30	8.44	11.3	14.8	18.5	21.0	23.3	26.2	28.3
13	3.57	4.11	5.01	5.89	7.04	9.30	12.3	16.0	19.8	22.4	24.7	27.7	29.8
14	4.07	4.66	5.63	6.57	7.79	10.2	13.3	17.1	21.1	23.7	26.1	29.1	31.3
15	4.60	5.23	6.26	7.26	8.55	11.0	14.3	18.2	22.3	25.0	27.5	30.6	32.8
16	5.14	5.81	6.91	7.96	9.31	11.9	15.3	19.4	23.5	26.3	28.8	32.0	34.3
17	5.70	6.41	7.56	8.67	10.1	12.8	16.3	20.5	24.8	27.6	30.2	33.4	35.7
18	6.26	7.01	8.23	9.39	10.9	13.7	17.3	21.6	26.0	28.9	31.5	34.8	37.2
19	6.84	7.63	8.91	10.1	11.7	14.6	18.3	22.7	27.2	30.1	32.9	36.2	38.6
20	7.43	8.26	9.59	10.9	12.4	15.5	19.3	23.8	28.4	31.4	34.2	37.6	40.0
21	8.03	8.90	10.3	11.6	13.2	16.3	20.3	24.9	29.6	32.7	35.5	38.9	41.4
22	8.64	9.54	11.0	12.3	14.0	17.2	21.3	26.0	30.8	33.9	36.8	40.3	42.8
23	9.26	10.2	11.7	13.1	14.8	18.1	22.3	27.1	32.0	35.2	38.1	41.6	44.2
24	9.89	10.9	12.4	13.8	15.7	19.0	23.3	28.2	33.2	36.4	39.4	43.0	45.6
25	10.5	11.5	13.1	14.6	16.5	19.9	24.3	29.3	34.4	37.7	40.6	44.3	46.9
26	11.2	12.2	13.8	15.4	17.3	20.8	25.3	30.4	35.6	38.9	41.9	45.6	48.3
27	11.8	12.9	14.6	16.2	18.1	21.7	26.3	31.5	36.7	40.1	43.2	47.0	49.6
28	12.5	13.6	15.3	16.9	18.9	22.7	27.3	32.6	37.9	41.3	44.5	48.3	51.0
29	13.1	14.3	16.0	17.7	19.8	23.6	28.3	33.7	39.1	42.6	45.7	49.6	52.3
30	13.8	15.0	16.8	18.5	20.6	24.5	29.3	34.8	40.3	43.8	47.0	50.9	53.7

תרגילים :

1. נבדק התלות בין גודל הארגון לבין שביעות הרצון של העובדים. להלן התוצאות :

שביעות רצון גודל המפעל	נמוכה	בינונית	גבוהה	סה"כ
גדול	182	203	215	600
קטן	154	110	136	400
סה"כ	336	313	351	1000

מה המסקנה ברמת מובהקות של 2.5%?

2. מפעל עובד בשלוש משמרות. להלן מספר המוצרים הפגומים והתקינים בכל אחת מן המשמרות לפי מדגם שנעשה :

	יום	ערב	לילה
פגומים	50	60	70
תקינים	600	700	800

האם יש הבדל בין שיעורי הפגומים

במשמרות השונות? הסיקו עבור רמת מובהקות $\alpha = 0.05$.

3. נדגמו 50 מוצרים ממפעל מסוים מתוך 30 מוצרים שיוצרו ביום 17 נבחרו לייצוא מתוך המוצרים שיוצרו בלילה 10 נבחרו לייצוא. האם יש קשר בין היות מוצר לייצוא למועד שבו הוא יוצר ? בדוק ברמת בטחון של 95%.

4. במטרה לבדוק האם השתנו דפוסי ההצבעה למפלגות השונות בין שבוע שעבר לשבוע נלקחו שני סקרים אחד מהשבוע שעבר והאחר מהשבוע. להלן דפוסי ההצבעה שהתקבלו בסקרים אלה :

	מפלגה א	מפלגה ב	מפלגות אחרות	סה"כ
שבוע שעבר				
השבוע	143		253	550
סה"כ	243	314		1050

א. מהי רמת המובהקות המינימלית עבורה ניתן להחליט שהשתנו דפוסי ההצבעה משבוע שעבר לשבוע באופן מובהק?

ב. כיצד הייתה התשובה לסעיף א משתנה אם כל השכיחויות בטבלה של תוצאות המדגם היו מוכפלות פי 2?

ג. בנו רווח סמך לשיעור המצביעים למפלגה א השבוע ברמת סמך של 95%.

5. בחנות בגדים A בדקו את התפלגות הצבעים של הבגדים הנמכרים ביום מסוים :

צבע	שחור	לבן	אדום	כחול
מספר הפריטים	15	20	15	50

כמו כן בדקו את התפלגות הצבעים בחנות שכנה B :

צבע	שחור	לבן	אדום	כחול
מספר הכדורים	60	20	10	20

א. בדוק ברמת מובהקות של 5% האם התפלגות הצבעים בחנות A היא ביחס של 3:1:1:1 לטובת הכחול.

ב. בדוק ברמת מובהקות של 2.5% האם קיים הבדל בין החנויות מבחינת התפלגות הצבעים של הפריטים הנמכרים.

6. סטודנט קיבל בבדיקת השערות ערך χ^2 (chi-square) השווה לאפס. הסטודנט הסיק כי לא קיימת תלות, בין שני המשתנים שבדק, בכל רמות מובהקות. **נכון ?**

לא נכון? נמק/י

7. להלן טבלת O של שני משתנים שהתקבל במדגם כלשהו :

$f(x)$	Y_4	Y_3	Y_2	Y_1	
200					X_1
200					X_2
	160	120	60	60	$f(y)$

מה צריכות להיות השכיחויות בתוך הטבלה כדי שמובהקות התוצאה (PV) תהיה 100% ?

פתרונות:**שאלה 1:**

נסיק שיש קשר בין גודל הארגון לשביעות הרצון של העובדים.

שאלה 2:

נסיק שאין הבדל מובהק בין שיעור הפגומים במשמרות השונות.

שאלה 3:

נסיק שאין קשר בין היות מוצר לייצוא למועד שבו הוא יוצר.

שאלה 4:

א. 10%

ב. קטן

ג. (0.223,0.297)

שאלה 5:

א. נסיק שהתפלגות הצבעים בחנות היא כמו שמצוין.

ב. נסיק שיש הבדל בין החנויות מבחינת התפלגות הצבעים.

שאלה 6:

נכון

פרק 9 - ניתוח שונות חד כיוונית

רקע תיאורטי:

ניתוח שונות (חד כיווני) הוא מבחן להשוואת תוחלות (μ_1, \dots, μ_k) של k אוכלוסיות שונות. ולכן בניתוח שונות השערות המחקר הן:

$$H_0 : \mu_1 = \mu_2 = \dots = \mu_k \quad (\text{התוחלות של כל האוכלוסיות שוות})$$

$$H_1 : \quad \text{אחרת} \quad (\text{לפחות שתיים מהתוחלות שונות})$$

התנחות הדרושות לביצוע התהליך הן:

1. בכל אוכלוסייה מתוך k האוכלוסיות ההתפלגות נורמלית.

2. כל האוכלוסיות הן עם אותה שונות σ^2 .

3. המדגמים בלתי תלויים זה בזה.

ישנו משתנה המבדיל בין הקבוצות השונות, הוא המשתנה הבלתי תלוי הנקרא גורם (factor)

משתנה זה הוא קטגוריאלי עם k רמות (levels).

כדי לבצע את התהליך יש לבצע מדגם מכל אוכלוסייה:

נסמן ב- n_i את גודל המדגם בקבוצה i.

$$n = \sum_{i=1}^k n_i \quad \text{- מספר התצפיות סך הכול (בכל המדגמים)}$$

$$\bar{X}_1 \quad \text{- ממוצע המדגם הראשון, } \dots, \bar{X}_k \quad \text{- ממוצע המדגם ה-k-י.}$$

$$\bar{X} \quad \text{- ממוצע כללי (של כל המדגמים).}$$

$$SS_B = \sum_{i=1}^k n_i [\bar{X}_i - \bar{X}]^2 \quad \text{סכום ריבועים בין הקבוצות}$$

$$SS_W = \sum_{i=1}^k [n_i - 1] \cdot \hat{S}_i^2 \quad \text{סכום ריבועים בתוך הקבוצות}$$

$$SS_T = \sum_{i=1}^k \sum_{j=1}^{n_j} [X_{ij} - \bar{X}]^2 \quad \text{סכום ריבועים כללי}$$

$$SST = SSB + SSW$$

www.GooL.co.il לפתרון מלא בסרטון וידאו היכנסו ל-

© כתב ופתר - ברק קנדל

יש למלא את טבלת ניתוח השונות הבאה :

טבלת ניתוח שונות

מקור השונות	סכום הריבועים SS	דרגות חופש df	ממוצע הריבועים MS	F
B-בין הקבוצות	SSB	k - 1	$\frac{SSB}{k-1}$	$\frac{MSB}{MSW}$
W-בתוך הקבוצות	SSW	n - k	$\frac{SSW}{n-k}$	
T-סה"כ	SST	n - 1		

$$F = \frac{SS_B / (k - 1)}{SS_W / (n - k)} \sim F(k - 1, n - k)$$

$$F > F_{(k-1), (n-k); 1-\alpha} : H_0 \text{ איזור דחיית}$$

תרגילים:

1. מחקר מעוניין להשוות בין שלוש תרופות לשיכוך כאבים במטרה לבדוק האם קיים הבדל בין התרופות מבחינת הזמן בדקות שלוקח עד שהתרופה משפיעה. לצורך הבדיקה נלקחו 15 אנשים שסובלים מכאבי ראש. אנשים אלה חולקו באקראי לשלוש : קבוצה 1 קיבלה "אקמול" קבוצה 2 קיבלה "אופטלגין" קבוצה 3 קיבלה "נורופן".
- כל אדם במחקר מסר את מספר הדקות עד שהתרופה השפיעה עליו.
- א. מהו המשתנה התלוי ומהו המשתנה הבלתי תלוי במחקר? מהו ה"גורם" וכמה רמות יש לו?
- ב. מהו המבחן הסטטיסטי המתאים כאן? רשמו את ההשערות.
- ג. מה הן ההנחות הדרושות כדי לבצע את המבחן הסטטיסטי שהצעת בסעיף הקודם?
2. בעיר מסוימת שלושה בתי ספר תיכון. ראש העיר התעניין לבדוק האם קיים הבדל בהצלחה של בתי הספר במקצוע מתמטיקה. לצורך כך הוא דגם מספר תלמידים שנבחנו במבחן הבגרות במתמטיקה ברמה של 3 יחידות בעירו ובדק עבור כל תלמיד מה ציון הבגרות שלו במתמטיקה.
- להלן הציונים שהתקבלו :

בית הספר	"המתמיד"	"רביץ"	"הס"
	78	98	85
	65	62	83
	70	55	74
	90	80	85
	56		75

- א. מהו המבחן הסטטיסטי המתאים? רשמו את ההשערות ואת ההנחות של המבחן.
- ב. מהו גודל המדגם? מהו המשתנה הבלתי תלוי (FACTOR) כמה רמות יש לו?
- ג. חשבו את הממוצע ואת סטיית התקן של הציונים בכל אחד מהמדגמים.
- ד. מלאו את טבלת ANOVA.
- ה. רשמו את כלל ההכרעה למבחן שהוצע בסעיף א ברמת מובהקות של 5%.
- ו. האם קיים הבדל בין בתי הספר בעיר מבחינת רמת הצלחת התלמידים במקצוע המתמטיקה? ענה על סמך הסעיפים הקודמים.

3. מעוניינים לבדוק האם יש הבדל בהשפעה של שיטות טפול שונות על לחץ הדם הסיסטולי (SBP) באוכלוסייה של קשישים. נבדקו 4 שיטות שונות. בטבלה המצורפת מרוכזים ממצאי המחקר.

השיטה	A	B	C	D
גודל המדגם	12	14	8	12
הממוצע	178	172	180	182
סטיית התקן	4	8	5	3

- א. רשמו את השערות המחקר וההנחות הדרושות כדי לבצע את המבחן המתאים.
 ב. מה מסקנת המחקר ברמת מובהקות של 5%?
 ג. האם יש צורך לבצע השוואות מרובות?
 4. שלושה אופים נתבקשו להכין עוגת שוקולד. לכל אופה בדקו את משך זמן ההכנה בדקות.
 כל אופה נדרש לאפות בכל יום 4 עוגות.

האופה	ניר	מוזס	שלום
סכום הזמנים	206	212	182
סכום ריבועי הזמנים	10644	11250	8982

האם קיים הבדל בין האופים מבחינת תוחלת זמני ההכנה של העוגות? בדקו ברמת מובהקות של 5%.

5. להלן טבלת ניתוח שונות חד כיוונית. במחקר בחנו 4 סוגי סוללות. רצו לבדוק האם לסוג הסוללה השפעה על תוחלת אורך החיים שלה. הפעילו את כל הסוללות על אותו מכשיר ובדקו את אורך החיים של כל סוללה בשעות.

ANOVA

	Sum of Squares	df	Mean Square	F	Sig.
Between Groups	10.317	3	3.439	1.361	.279
Within Groups	60.648	24	2.527		
Total	70.964	27			

מה המסקנה ברמת מובהקות של 10%? רשמו את ההשערות וההנחות הדרושות.

6. להלן טבלת ANOVA בטבלה הושמטו חלקים. השלם את החלקים בטבלה שהושמטו ומסומנים באותיות.

ANOVA

	Sum of Squares	df	Mean Square	F	Sig.
Between Groups	357.450	ב	ג	ה	.000
Within Groups	א	17	ד		
Total	522.950	19			

7. חברת תרופות לקחה 15 אנשים ברמת בריאות דומה. החברה חילקה את האנשים ל שלוש קבוצות שוות בגודלן. לכל קבוצה ניתנה אותה תרופה במינון שונה (dosage). המינונים שניתנו הם: 10 מ"ג, 20 מ"ג ו-30 מ"ג. לאחר שעה מזמן לקיחת התרופה ניבדק קצב פעימות הלב של כל אדם (pulse). הנתונים הוזנו לתוכנה סטטיסטית והתקבלו התוצאות הבאות:

ANOVA

pulse

	Sum of Squares	df	Mean Square	F	Sig.
Between Groups	414.400	2	207.200	19.733	.000
Within Groups	126.000	12	10.500		
Total	540.400	14			

Post Hoc Tests

Multiple Comparisons

pulse
Tukey HSD

(I) dosage	(J) dosage	Mean Difference (I-J)	Std. Error	Sig.	95% Confidence Interval	
					Lower Bound	Upper Bound
10.00	20.00	3.20000	2.04939	.299	-2.2675	8.6675
	30.00	12.40000*	2.04939	.000	6.9325	17.8675
20.00	10.00	-3.20000	2.04939	.299	-8.6675	2.2675
	30.00	9.20000*	2.04939	.002	3.7325	14.6675
30.00	10.00	-12.40000*	2.04939	.000	-17.8675	-6.9325
	20.00	-9.20000*	2.04939	.002	-14.6675	-3.7325

*. The mean difference is significant at the 0.05 level.

Homogeneous Subsets

pulse

Tukey HSD^a

dosage	N	Subset for alpha = 0.05	
		1	2
30.00	5	71.0000	
20.00	5		80.2000
10.00	5		83.4000
Sig.		1.000	.299

Means for groups in homogeneous subsets are displayed.

a. Uses Harmonic Mean Sample Size = 5.000.

- א. בדוק ברמת מובהקות של 5% האם קיים הבדל בין המינונים השונים מבחינת תוחלת הדופק של האנשים? רשמו את ההשערות וההנחות הדרושות לצורך פתרון.
- ב. הסבירו ללא חישוב כיצד הייתה משתנה התשובה לסעיף הקודם אם הינו מעלים את הדופק של כל התצפיות במחקר ב- 2.
- ג. האם יש צורך במחקר בהשוואת מרובות. נמק!
- ד. לטבלת ה ANOVA צורפו טבלאות של השוואות מרובות בשיטה הנקראת "טוקי". ברמת בטחון של 95% מה הם הממצאים לפי שיטה זו?

8. בעיר מסוימת רצו לבדוק האם קיים הבדל ברמה של התלמידים בין בתי הספר השונים בעיר. ביצעו מדגם מכל בית ספר ונתנו מבחן זהה לכל הנדגמים. לאחר מכן ריכזו את הנתונים בתוכנה סטטיסטית והפעילו ניתוח שונות. מצורפים הפלטים שהתקבלו.
ענו על הסעיפים הבאים:
- א. כמה בתי ספר יש בעיר?
ב. כמה תלמידים השתתפו בסך הכול במחקר?
ג. האם קיים הבדל בין בתי הספר בעיר מבחינה רמת הציונים? בדקו ברמת מובהקות של 1%
ד. בביטחון של 95% אילו בתי ספר שונים זה מזה ברמת התלמידים? נמקו והסבירו.

Oneway

ANOVA

grade	Sum of Squares	df	Mean Square	F	Sig.
Between Groups	7799.600	4	1949.900	13.586	.000
Within Groups	2870.400	20	143.520		
Total	10670.000	24			

Post Hoc Tests

Multiple Comparisons

grade

Scheffe

(I) school	(J) school	Mean Difference (I-J)	Std. Error	Sig.	95% Confidence Interval	
					Lower Bound	Upper Bound
1.00	2.00	5.40000	7.57681	.971	-20.2543	31.0543
	3.00	36.80000*	7.57681	.003	11.1457	62.4543
	4.00	36.40000*	7.57681	.003	10.7457	62.0543
	5.00	-2.60000	7.57681	.998	-28.2543	23.0543
2.00	1.00	-5.40000	7.57681	.971	-31.0543	20.2543
	3.00	31.40000*	7.57681	.011	5.7457	57.0543
	4.00	31.00000*	7.57681	.013	5.3457	56.6543
	5.00	-8.00000	7.57681	.888	-33.6543	17.6543
3.00	1.00	-36.80000*	7.57681	.003	-62.4543	-11.1457
	2.00	-31.40000*	7.57681	.011	-57.0543	-5.7457
	4.00	-.40000	7.57681	1.000	-26.0543	25.2543
	5.00	-39.40000*	7.57681	.001	-65.0543	-13.7457
4.00	1.00	-36.40000*	7.57681	.003	-62.0543	-10.7457
	2.00	-31.00000*	7.57681	.013	-56.6543	-5.3457
	3.00	.40000	7.57681	1.000	-25.2543	26.0543
	5.00	-39.00000*	7.57681	.001	-64.6543	-13.3457
5.00	1.00	2.60000	7.57681	.998	-23.0543	28.2543
	2.00	8.00000	7.57681	.888	-17.6543	33.6543
	3.00	39.40000*	7.57681	.001	13.7457	65.0543
	4.00	39.00000*	7.57681	.001	13.3457	64.6543

*. The mean difference is significant at the 0.05 level.

Homogeneous Subsets

grade

Scheffe^a

school	N	Subset for alpha = 0.05	
		1	2
3.00	5	45.0000	
4.00	5	45.4000	
2.00	5		76.4000
1.00	5		81.8000
5.00	5		84.4000
Sig.		1.000	.888

Means for groups in homogeneous subsets are displayed.

a. Uses Harmonic Mean Sample Size = 5.000.

פתרונות סופיים חלקיים - ניתוח שונות חד כיוונית

2. אם חישבת נכון ה F הסטטיסטי יוצא: 0.58

3. נדחה את השערת האפס.

4. להלן טבלת הניתוח השונות המתקבלת:

	Sum of Squares	df	Mean Square	F
Between Groups	126.000	2	63.000	.756
Within Groups	750.000	9	83.333	
Total	876.000	11		

5. נקבל את השערת האפס.

6. א. 165.5 ב. 2 ג. 178.725 ד. 9.375 ה. 18.36

7. א. נדחה את השערת האפס. ב. לא משתנה. ג. כן

8. א. 5 ב. 25 ג. כן

פרק 10 - מבחנים אפרמטריים**א. מבחן הסימן**

1. רוצים לבדוק את הטענה שהציונים במבחן בסטטיסטיקה ב גבוהים מאשר בסטטיסטיקה א. נלקחו 10 סטודנטים שסיימו את סטטיסטיקה ב. עבור כל סטודנט נבדק מה הציון בסטטיסטיקה א ומה הציון בסטטיסטיקה ב. להלן התוצאות שהתקבלו:

א	ב
62	70
74	80
68	70
94	90
82	77
67	67
65	80
84	86
78	79
80	82

בידקו ברמת מובהקות של 5%.

2. מעוניינים לבדוק האם סם מסוים משפיע על לחץ הדם. נלקחו 24 אנשים אשר נמדד להם לחץ הדם לאחר מכן ניתן להם הסם ושוב נמדדו להם את לחץ הדם. לחמישה אנשים לחץ הדם לא השתנה ל 15 אנשים לחץ הדם עלה וליתר לחץ הדם ירד אחרי לקיחת הסם. מה מסקנתכם ברמת מובהקות של 5%?

3. מעוניינים לבדוק האם ההוצאות על "גיאנק פוד" בקרב הסטודנטים רבות יותר בזמן הלימודים לעומת ימי החופשה. נדגמו 15 סטודנטים מקריים, אצל 13 ההוצאות בתקופת הלימודים היו גבוהות יותר מימי החופשה ואצל 2 נמוכות יותר. מה מסקנתך בר"מ של 0.05?

ב. מבחן ווילקוקסון למדגמים מזוגים:

1. שני קונדיטורים מתחרים על מקום עבודה. נתנו לשניהם להכין 8 מאפים שונים כאשר כל אחד מהמאפים נאפה ע"י שניהם. בסופו של דבר בעל הקונדיטוריה נתן ציון לכל אחד מהאופים בעבור כל אחד מהמאפים. להלן הציונים שהתקבלו:

אופה א	אופה ב
10	9
9	8
7	7
8	9
9	6
10	6
7	5
8	4

ברמת מובהקות של 5% האם אפשר לקבוע שאופה א' טוב יותר מאופה ב'?

2. סטודנטים נתבקשו לתת חוות דעתם על רמת הקושי של הקורס (סקאלה של 1-5 כאשר 5=קשה ביותר) ועל רמת הקושי של הבחינות באותה סקאלה. מעוניינים לבדוק האם קיים הבדל בין רמת הקושי הנתפסת בעיני הסטודנט על הקורס ועל המבחנים.

להלן תוצאות המדגם:

4	5	1	2	3	4	2	3	4	1- קושי קורס
2	3	2	2	2	3	4	4	4	2 - קושי בחינה

בדקו ברמת מובהקות של 5%.

תשובות סופיות - מבחנים אפרמטריים
פרק א - מבחן הסימן

<u>שאלה 2</u>	<u>שאלה 1</u>
נדחה H_0	נקבל H_0
	<u>שאלה 3</u>
	נדחה H_0

פרק ב - מבחן ווילקוקסון למדגמים מזוגים

<u>שאלה 2</u>	<u>שאלה 1</u>
נקבל H_0	נדחה H_0